
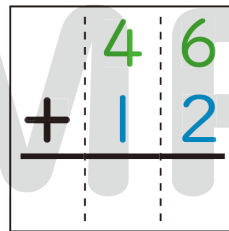
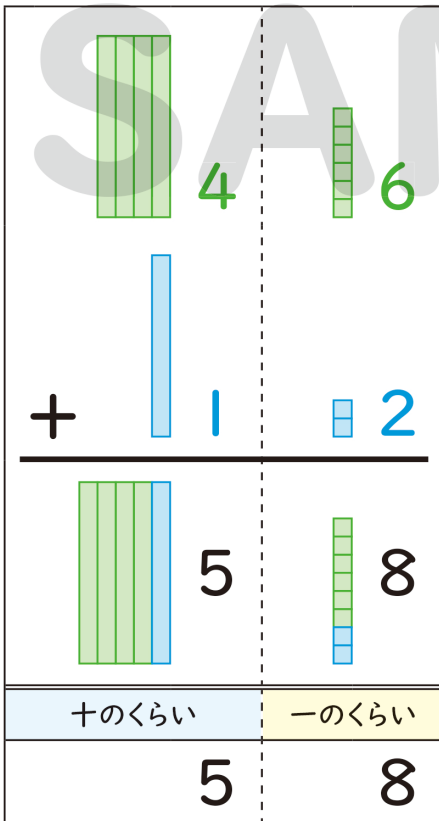


たし算の ひっ算

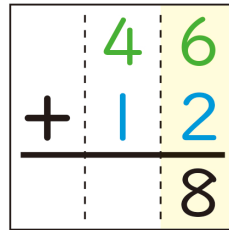
カザマクんの  
クレオンを  
かりたいゾ!



カザマクんの クレオンが 46本、 しんのすけの <sup>なんぼん</sup>クレオンが 12本。  
あわせて 何本に なるかな?

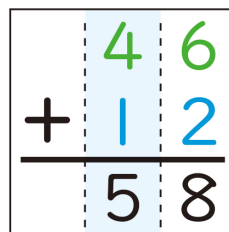


くらいを たてに  
そろえて か  
書く。



一のくらいを  
たす。

$$6 + 2 = 8$$



十のくらいを  
たす。

$$4 + 1 = 5$$

じゃ、  
カザマクんの  
うんちに  
するから〜。

もっと  
いやだ。

このような <sup>けいさん</sup>計算の しかたを「ひっ算」と いうよ。

たし算の ひっ算①



月	日
曜日	

① たし算の ひっ算を しましょう。

一のくらいから  
たしましょ。



①

	2	1
+	1	4

②

	5	2
+	1	6

② つぎの たし算を ひっ算で しましょう。

① 45 + 31


② 62 + 11


③ 37 + 22


④ 53 + 34


⑤ 73 + 26


ばっちりだね!



休日くらい ゆっくり させてよ。オラ つかれてるんだから。

きょうち よく がんばっただよ  
おわったら  
ぶりぶり  
シールを  
はろう

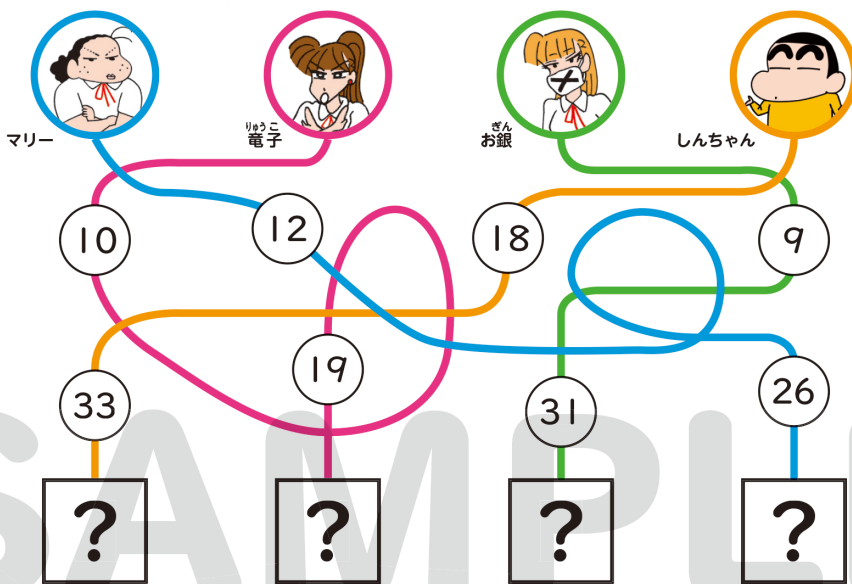


# 計算パズル ①





## たし算めいろ

めいろを <sup>とお</sup>通りながら たし算をするよ。  
いちばん <sup>かず</sup>大きい数になるのは だれかな。

わら げいにんには  
お笑い芸人には  
ま 負けないゾ!



しきを <sup>か</sup>書いて みよう。  には <sup>なまえ</sup>名前を <sup>か</sup>書こう。

	<input type="text"/>	+	<input type="text"/>	=	<input type="text"/>
マリー					
	<input type="text"/>	+	<input type="text"/>	=	<input type="text"/>
リョウ子					
	<input type="text"/>	+	<input type="text"/>	=	<input type="text"/>
さんお銀					
	<input type="text"/>	+	<input type="text"/>	=	<input type="text"/>
しんちゃん					



いちばん <sup>かず</sup>大きい数は  だよ。

